


# WERKBOEKJE KLOKKEN

van \_\_\_\_\_

[KLAARVOORDEKLAS.NL](https://klaarvoordeklas.nl)

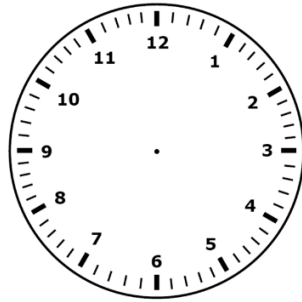


# Ken de klok

De grote wijzer geeft de uren / minuten aan.

De kleine wijzer geeft de uren / minuten aan.

Teken op deze klok een grote wijzer met rood en een kleine wijzer met groen.



Verbind de tijd met de juiste klok.

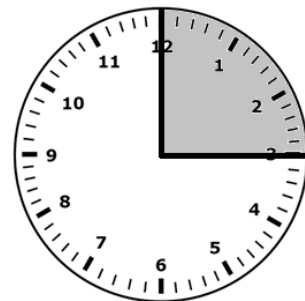
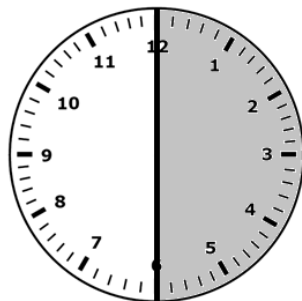

een kwartier



een half uur



een uur



Een uur heeft \_\_\_\_ minuten

Een half uur heeft \_\_\_\_ minuten

Een kwartier heeft \_\_\_\_ minuten

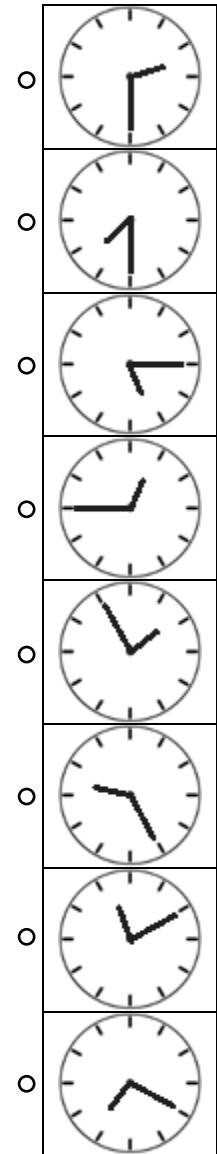
Als het 8 uur 's ochtends is, staat op een digitale klok:  als het 8 uur 's avonds is, staat er 12 uur later op de klok.  $8+12=$ \_\_\_\_, dus om 8 uur 's avonds zal op de klok staan .

# Klok

Zoek de juiste tijden bij elkaar.

07:30	<input type="radio"/>
01:55	<input type="radio"/>
02:30	<input type="radio"/>
09:25	<input type="radio"/>
05:15	<input type="radio"/>
11:10	<input type="radio"/>
00:45	<input type="radio"/>
07:20	<input type="radio"/>

<input type="radio"/>	19:30	<input type="radio"/>
<input type="radio"/>	14:30	<input type="radio"/>
<input type="radio"/>	23:10	<input type="radio"/>
<input type="radio"/>	17:15	<input type="radio"/>
<input type="radio"/>	12:45	<input type="radio"/>
<input type="radio"/>	21:25	<input type="radio"/>
<input type="radio"/>	19:20	<input type="radio"/>
<input type="radio"/>	13:55	<input type="radio"/>



# Van vroeg naar laat

Zet de tijden op volgorde van vroeg naar laat.

- 02:15      15:36      18:34      06:15      15:50

- 18:15      08:20      08:25      17:15      20:50

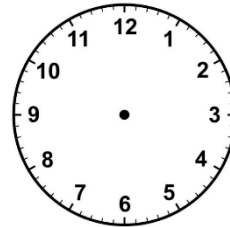
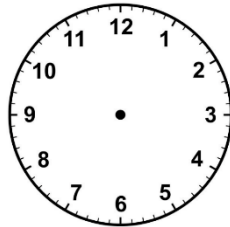
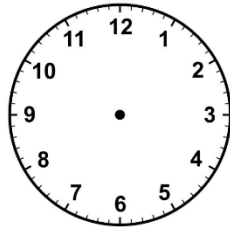
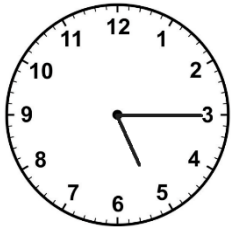
- 12:20      23:20      22:20      20:20      19:20

- 06:00      09:34      05:28      06:30      08:45

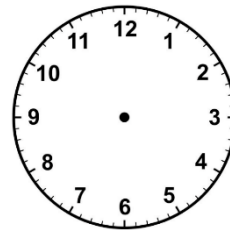
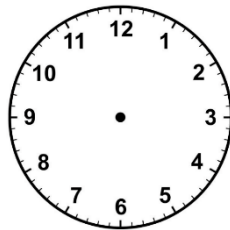
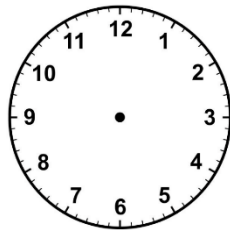

- 11:25      11:10      11:58      11:36      11:45

# Iets later...

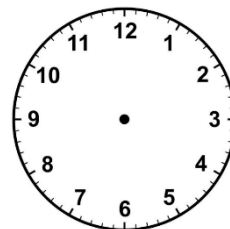
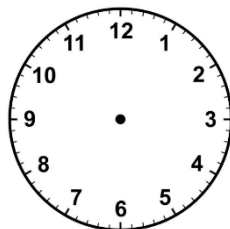
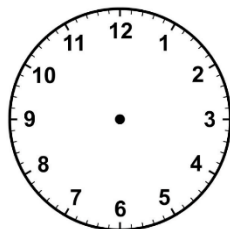
Teken steeds een uur later.



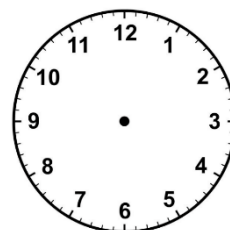
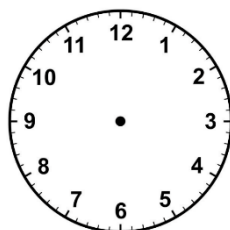
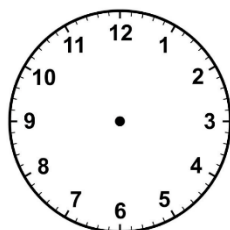
Teken steeds een kwartier later.



Teken steeds vijf minuten later.



Teken steeds een half uur later.



# Aanvullen

Vul de rest van de rijtjes in.

09:15	09:30	:	:	:
-------	-------	---	---	---

14:20	14:25	:	:	:
-------	-------	---	---	---

:	12:00	12:30	:	:
---	-------	-------	---	---

:	:	09:00	10:00	:
---	---	-------	-------	---

20:10	20:40	:	:	:
-------	-------	---	---	---

18:50	19:05	:	:	:
-------	-------	---	---	---

:	:	:	22:10	22:50
---	---	---	-------	-------

# Hoe laat ga jij?

Hoe laat ga jij ongeveer...

- naar bed? kleur rood
- naar school? kleur geel
- avondeten? kleur blauw
- naar huis? kleur groen
- middageten? kleur oranje



12:00	18:00	20:15	11:45	15:30
12:15	15:00	12:30	18:15	19:45
17:45	19:00	15:15	08:00	19:15
08:15	08:30	21:00	21:30	21:45
07:45	21:15	13:00	17:30	22:00
20:30	14:15	19:30	20:45	16:00
17:00	14:00	11:30	14:45	16:45
12:45	14:45	18:45	18:30	16:30
14:30	17:15	20:00	07:30	16:15