


NEGATIEVE GETALLEN

WWW.LOWIKWISKUNDE.NL


 @LOWIKWISKUNDE



POSITIEVE EN NEGATIEVE GETALLEN



Wanneer is een getal **positief**?

De getallen **zonder** een wiskundig teken ervoor.




Wanneer is een getal **negatief**?

De getallen met een **min** teken ervoor.



WAAR KOM JE POSITIEVE EN NEGATIEVE GETALLEN TEGEN?

GELD




TEMPERATUUR

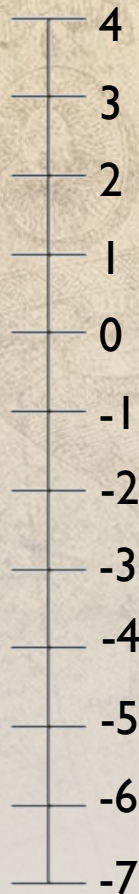


MATEN

Bijvoorbeeld onder
het zeeniveau

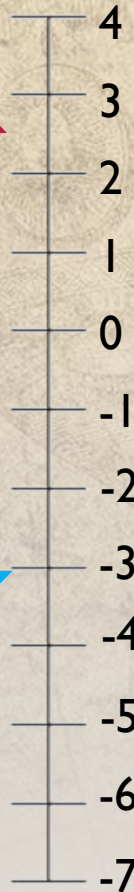


EEN GETALLENLIJN MET NEGATIEVE GETALLEN



1. Teken een getallenlijn van boven naar beneden van 12 cm lang.
2. Zet het getal 0 bij het 5^e streepje.
3. Vul de getallen erboven in.
4. Wat staat er onder de nul?
5. Vul de getallen aan de onderkant in.

STAPPEN ZETTEN OP DE GETALLENLIJN



Ga met je vinger bij 1 staan en ga drie stappen naar beneden. Waar sta je nu?

Je komt uit bij het getal -2

Welke som heb je nu uitgerekend?

$$1 - 3 = -2$$

Ga met je vinger bij -3 staan en ga vier stappen naar boven. Waar sta je nu?

Je komt uit bij het getal -1

Welke som heb je nu uitgerekend?

$$-3 + 4 = 1$$

